

Nom :

Prénom :

Date :

Classe :

EVALUATION SOMMATIVE

Nom et prénom du correcteur :

Note	Appréciation travail	Recommandation (s)
20	<input type="checkbox"/> Excellent (+16) <input type="checkbox"/> Passable (10 et +) <input type="checkbox"/> Très bien (+14) <input type="checkbox"/> Insuffisant* (- 10) <input type="checkbox"/> Bien (+12) <input type="checkbox"/> Inquiétant** (-07)	<input type="checkbox"/> Apprendre la leçon** <input type="checkbox"/> Réviser la leçon* <input type="checkbox"/> Recopier l'évaluation pour la semaine suivante**

Nb : ½ peut être accordé pour la propreté du document et/ou sa lisibilité.

Technologie des matériels

LA PAIRE DE CISEAUX

1. Compléter le tableau. (5 pts = 0,5x10)

Schéma d'une paire de ciseaux			
1		2	
3		4	
5		6	
7		8	
9		10	

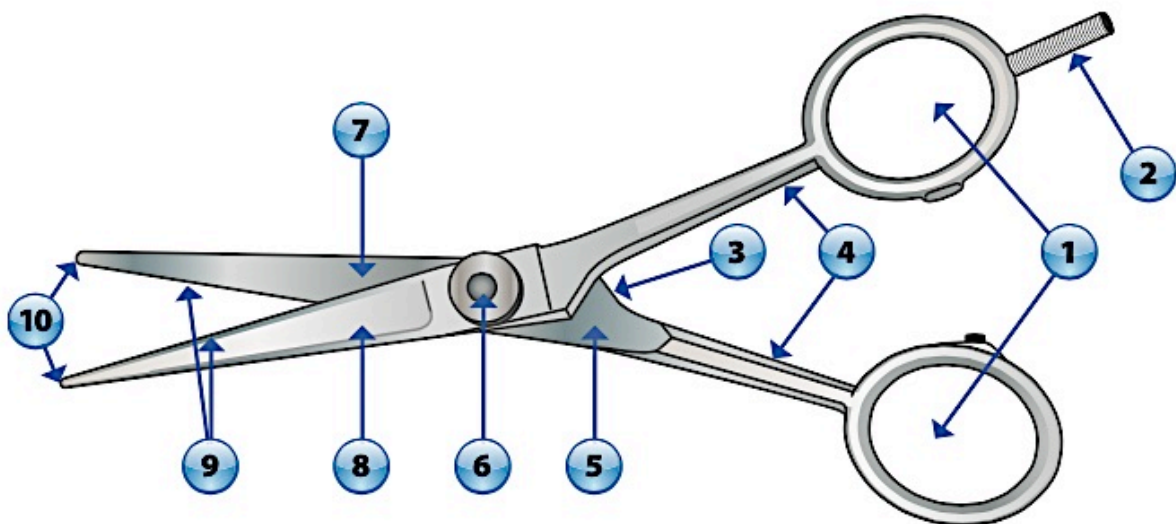
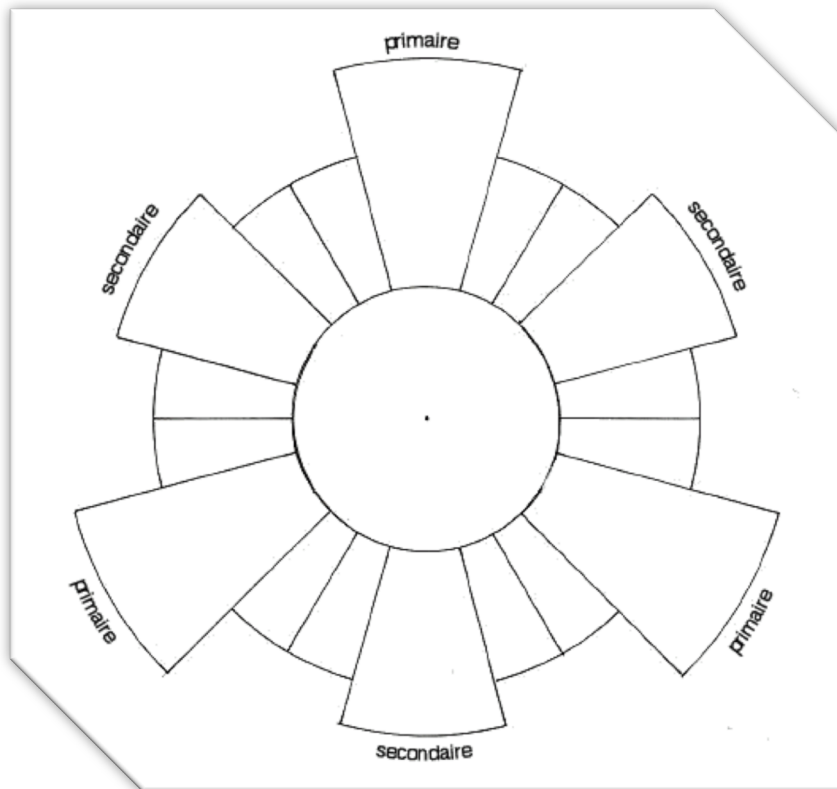


Schéma source : Technologie de la coiffure en situations professionnelles
Éditions CASTEILLA

TECHNOLOGIE DES TECHNIQUES PROFESSIONNELLES

LA COLORIMETRIE

2. Colorier le cercle chromatique avec les couleurs correspondantes. (3pts = 6X0,5)



3. Compléter les études de cas. (2 pts)

Étude de cas n°1. (1pt)	
Votre cliente est blonde mais se trouve trop jaune, comment neutraliser sa couleur ?	Pour neutraliser sa couleur, je devrai utiliser une couleur avec un reflet : _____
Étude de cas n°2 (1pt)	
Votre cliente a un reflet cuivré dans sa chevelure, elle n'en veut plus, comment la neutraliser ?	Pour neutraliser son reflet, je devrai utiliser une couleur avec un reflet : _____

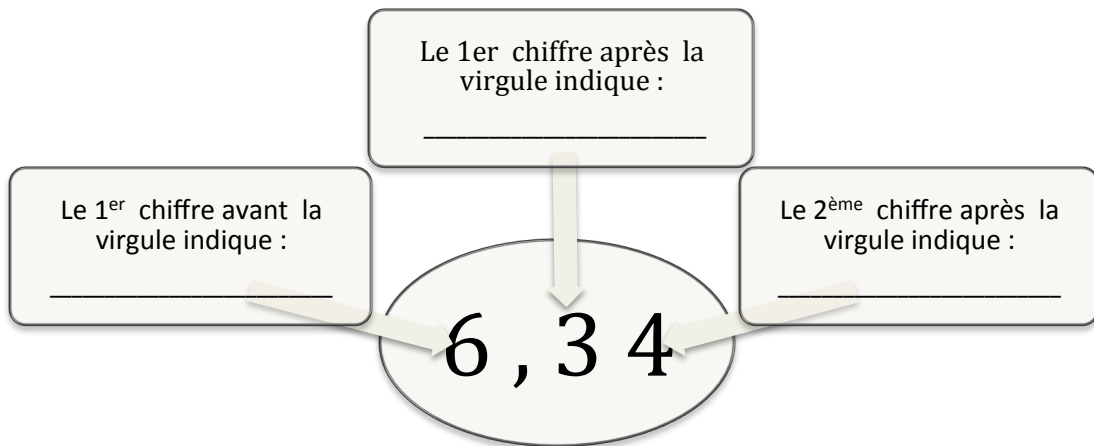
Nom :

Prénom :

Date :

Classe :

4. Retrouver les indications de chaque chiffre. (3pts)



5. Indiquer la correspondance de la numérotation ci-dessous. (4pts)

6,62

6,26

6. Préciser la différence entre un 6,26 et un 6,62 ? (1pt)

7. Madame Monvoisin est colorée en blond clair cendré, Madame Legal est colorée en blond clair doré.

Indiquer laquelle de ces 2 clientes paraît avoir la couleur la plus foncée, expliquer pourquoi ? (2 pts)
